

## Slovenščina

### SLJ: V OTROŠKEM MUZEJU, nadaljevanje pripovedi

Pripravi si delovni zvezek



Natančno si preberi navodila, ki so zapisana pri nalogah. Piši s pisanimi črkami. Pazi na velike začetnice in ločila na koncu povedi ter natančen in pravilen zapis. Večkrat se spomni na pravilno sedenje za mizo in držo pisal.

V delovnem zvezku »OTROCI« poišči naslov »V otroškem muzeju« (stran 72, 74).

Ta teden smo spoznali velike pisane črke **Ŧ**, **Č** in **Ø**. Oglej si jih in ponovi **pravilen zapis črk po zraku, mizi, zvezku ...**

- **Ponovno preberi besedilo pri 1. nalogi. Nato reši 7. nalogo.**
- **Ne pozabi v pisanko napisati naslov VAJA** in današnji datum na zunanji rob. Zapiši vsaj 5 povedi, pri tem pa pazi na pravilno uporabo velike začetnice in končnih ločil. Seveda pazi tudi, da boš pri velikih začetnicah uporabil/a velike pisane črke, ki smo se jih učili.

**Zakaj je Celje zapisano z veliko začetnico?**

**ZAPOMNI SI: Imena krajev se pišejo z veliko začetnico.**

OBLAČILA

Dragi učenec, draga učenka!

Današnja ura bo namenjena utrjevanju znanja o oblačilih.

1. Najprej ponovi besede za oblačila ob posnetkih (poslušaj in ponovi).

What are you wearing?

[https://www.youtube.com/watch?v=Y\\_fNXEu0tA](https://www.youtube.com/watch?v=Y_fNXEu0tA)








Clothing song:

<https://www.youtube.com/watch?v=KFQxBCvgx70>

Si si danes zapomnil še kakšno novo besedo iz posnetka? Na delovnem listu, ki si ga že dobil, jo obkroži. 😊

2. Poglej, kako si danes oblečen in se opiši. Uporablaj strukturo: I'm wearing ....
3. Zdaj pa izreži spodnja oblačila in otroka – predstavljaš si, da si to ti. Opisuj, kaj imaš oblečeno. Če nimaš možnosti natisniti lista, lahko sam narišeš sebe, se izrežeš, narišeš oblačila in sestavljaš svoje kombinacije. 😊





## Odštevanje dvomestnih števil-Računanje z deseticami

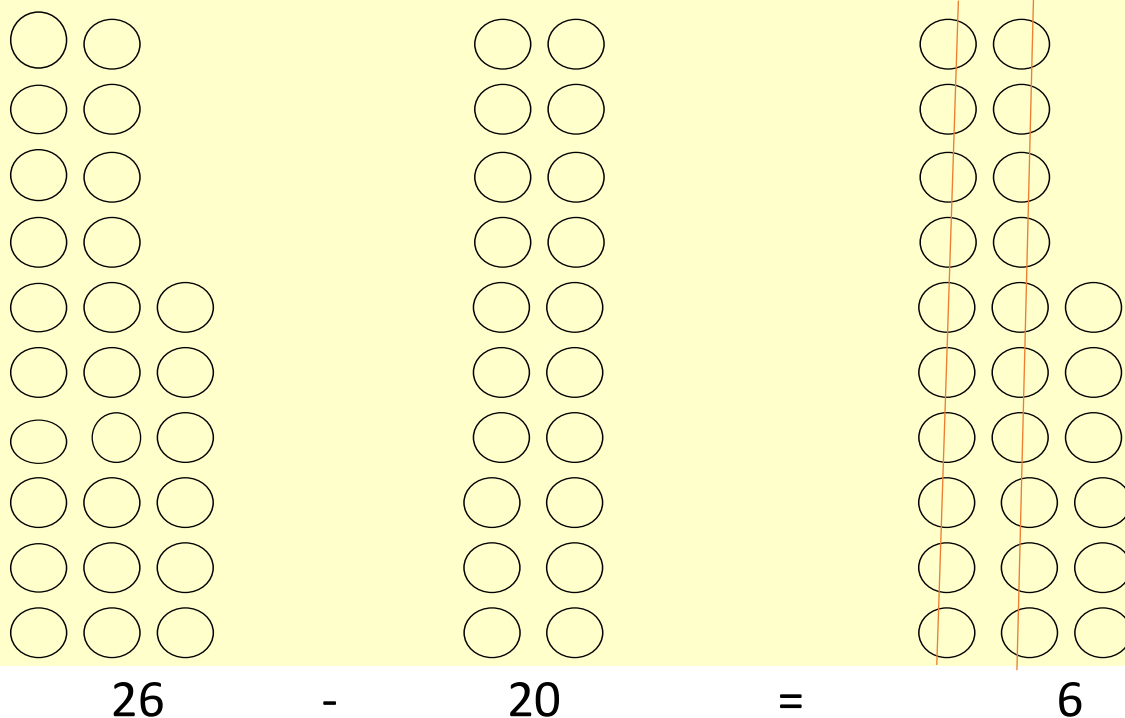
Seštevanje dvomestnih števil nam ne povzroča več težav.

Naučili se bomo odšteti dve dvomestni števili. Za začetek bomo odštevali brez prehoda čez desetico.

### Krogci

V karo zvezek napiši naslov **Računanje z deseticami** in današnji datum na zunanji rob zvezka, **preriši prikaz s stolpci in postopek računanja** - samo račune brez besedila.

Pozorno si oglej sliko. Krogce, ki so prečrtani, odvzamemo. Koliko jih ostane?



Dopolni.

$$26 - 20 = \boxed{\phantom{00}}$$

Ostane  krogcev.

Kako si to zapomniš-kako si pomagaš pri računanju?  
Desetice odšteješ, enice prvega števila pa prepíšeš.

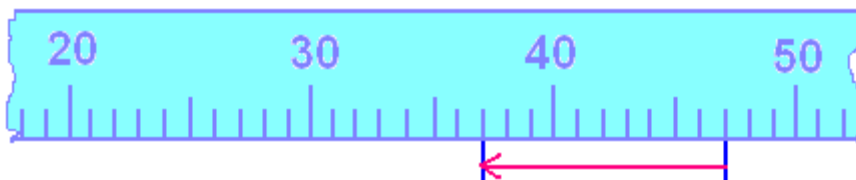
Naloge prepisi v karo zvezek in jih reši.

**Izračunaj.**

$$52 - 40 = \square$$

$$75 - 60 = \square$$

$$84 - 50 = \square$$



Napiši račun, ki ga predstavlja trak.

$$\square - \square = \square$$

**Dopolni tabelo**

Števila iz prve vrstice zmanjšaj za 30.

32	45	57	62	78
<input type="text"/>	<input type="text"/>	<input type="text"/>	<input type="text"/>	<input type="text"/>



V delovnem zvezku Svet matematičnih čudes 2 na strani 43 reši  
5. nalogo. Pri računanju si pomagaj s kockami.

## Likovna umetnost

### Galerija

**Preberi besedilo in si oglej fotografije.**

**Galerija je** razstavni prostor ali stavba z zbirko umetniških slik ali kipov.

### Narodna galerija

Narodna galerija je ustanova, ki hrani največjo zbirko likovnih del v Sloveniji.



**Galerija Jakčev dom** je galerija v Novem mestu, ki deluje v sklopu Dolenjskega muzeja. Nahaja se na Sokolski ulici v starem delu mesta. V Jakčevem domu je stalna likovna razstava.



Oglej si posnetek na tej povezavi <https://www.youtube.com/watch?v=NfCwAy7-xl8> in skozi zgodbo o škrtu Galu boš spoznal galerijo.