

SLOVENSKI JEZIK, 1. 4. 2020

Natančno preberi naloge na učnem listu in jih reši. Učni list lahko natisneš ali rešuješ v zvezek.

Andrej je doma na Bledu. Skupaj s starši je med novoletnimi počitnicami organiziral praznovanje zime. Napisal je vabilo in ga poslal svojim sošolcem.

Bled, 25. december 2019

DRAGI SOŠOLCI!

Vabim vas na praznovanje zime, ki bo v četrtek, 30. decembra 2019, ob 19. uri, na dvorišču pred našo hišo. Pridi, ne bo ti žal.

Andrej Skubin

1. Obkroži pravi odgovor!

- Kaj je Andrej napisal svojim sošolcem?

SPOROČILO

VOŠČILO

VABILO

ZAHVALO

- Kam je Andrej vabil svoje sošolce?

NA PRAZNOVANJE ROJSTNEGA DNE

NA PRAZNOVANJE ZIME

2. Obkroži DA, če trditev drži ali NE, če trditev ne drži!

Andrej je doma v Bohinju.

DA

NE

Andrej je napisal vabilo.

DA

NE

Svoje sošolce je povabil na praznovanje rojstnega dne. DA NE

Praznovanje zime bo na Andrejevem dvorišču. DA NE

Andrejev priimek je Sovdat. DA NE

3. Odgovori na vprašanja. Odgovore napiši v celih povedih!

- Kdaj je Andrej organiziral praznovanje prihoda zime?

- Koga je povabil na zimsko praznovanje?

4. Sošolcu ali sošolki napiši vabilo na praznovanje rojstnega dne.

➤ Dodatna naloga

Reševanje naloge ni obvezno.

Uporabi ponujene možnosti in sestavi dva vabila. Ne pozabi na sestavne dele vabila in na estetski zapis. Piši s pisanimi črkami in nalivnim peresom.

- Učenci tretjih razredov vabijo starše na športno prireditev.
- Manca je povabila svojo babico na nastop v glasbeni šoli.
- Učenci tretjih razredov vabijo babice in dedke na likovno razstavo.

MATEMATIKA

Včeraj nam je pri matematiki ponagajal škratek Napakec. Vtihatopil se je v zadnjo nalogo in pomešal matematične znake. Kar naenkrat je bilo število 100 večje od števila 300. Pa mu še ni bilo dovolj. Tudi število 200 je bilo večje od števila 500.


Takole je zapisal. $100 > 300$ in $500 < 200$

Pravilni zapis je $100 < 300$ in $500 > 200$


Sto je manjše od tristo in petsto je večje od dvesto.

- ✚ Pripravi si kartončke s stotičnimi števili.
- ✚ Razporedi jih po mizi in glasno preberi števila.
- ✚ Uredi jih po velikosti od največjega do najmanjšega.

Naloga: Pripravi si papir. Iz papirja izreži večje kvadrate, ki bodo predstavljali stotice in trakove, ki bodo desetice.



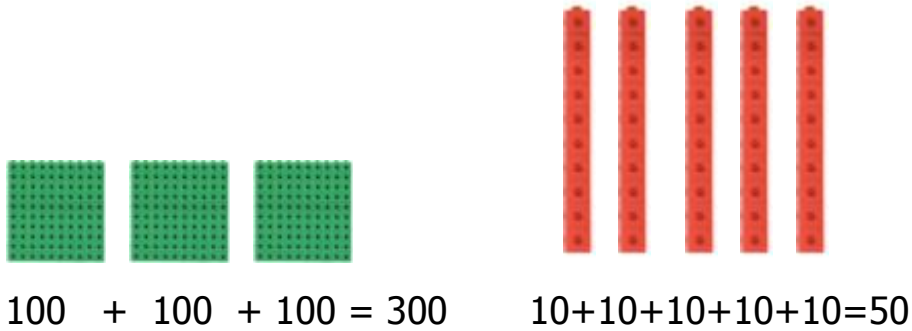
Vse, kar boš nastavljal/a na mizo, tudi nariši in napiši v zvezek.



-

$$\begin{array}{c|c|c} S & D & E \\ \hline 3 & 5 & 0 \end{array}$$

- Katero število predstavljajo modeli? **Tristo petdeset**



Po enakem postopku reši še nekaj primerov:

5S 7D 0E

2S 4D 0E

7S 5D 0E

Nastavi na mizo, nariši v zvezek (za risanje uporabi ravnilo s šablonami), napiši v razpredelnico število S,D, napiši število s števki in z besedo.

V zvezek prepisi in reši še naslednjih sedem nalog.

1. Vpiši manjkajoča števila.

100			400			700			1000
-----	--	--	-----	--	--	-----	--	--	------

2. Števila poveži s pravo besedo. Za vsako število uporabi svojo barvo. Dve besedi nimata svojega para.

100

300

1000

900

800

200

600

500

sto

dvesto

tristo

štiristo

petsto

šeststo

sedemsto

osemsto

devetsto

tisoč

3. Dopolni

1 D = 10

_____ = 40

_____ = 700

3 S = _____

_____ = 1000

1 T = _____

4. Dopolni. Vstavi znak <, >, =.

500 _____ 350

690 _____ 900

1000 _____ 100

200 _____ 800

490 _____ 460

700 _____ 900

440 _____ 400

180 _____ 810

100 _____ 400

5. Z rdečo barvico pobarvaj števila, ki so večja od 400 in manjša od 800.

100	200	300	400	500	600	700	800	900	1000
-----	-----	-----	-----	-----	-----	-----	-----	-----	------

6. Tinetov trak je dolg 5 cm. Zdenkin trak je šestkrat daljši. Koliko je dolg Zdenkin trak?

R: _____

O: _____

7. Mama je posadila sadike solate v 6 vrst. V vsako vrsto je posadila 9 sadik. Kaj lahko izračunaš?

R: _____

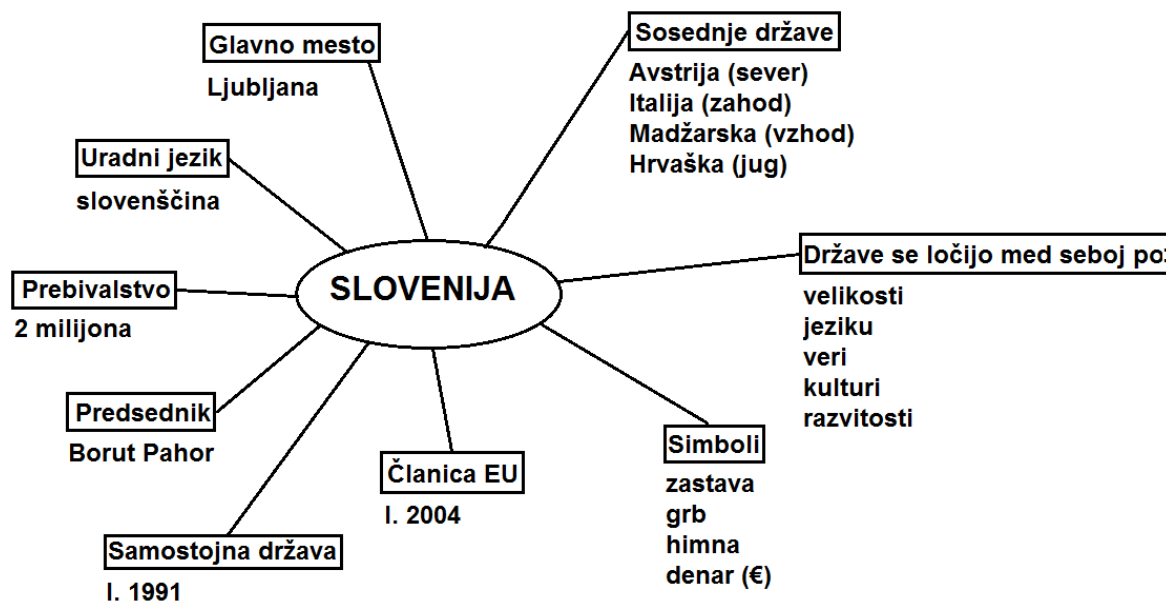
O: _____

SPOZNAVANJE OKOLJA

Odpri zvezek za spoznavanje okolja in v njem poišči zemljevid Slovenije. Nalepil/a ali narisal/a si ga prejšnji teden. Danes te čaka drugačna naloga.

Zate sem pripravila miselni vzorec o Sloveniji. Dobro si ga oglej! Si našel/a vsiljivca? Med simboli je napisan denar. To ne drži, zato ga boš pri prepisovanju izpustil/a.

Miselni vzorec **prepiši** pod zemljevid Slovenije. Pri prepisovanju uporabi različne barve. Pazi na estetski zapis.



V zvezek lahko nalepiš slike ali razglednice o Sloveniji, če jih imaš.

ŠPORT

Najprej naredi nekaj razteznih vaj. Pomagaj si z naborom vaj.

RAZTEZNE VAJE



Sedaj te čakajo naslednje 4 vaje:

1. 10 počep skokov.
2. 10 izpadnih korakov z desno nogo naprej in nato še 10 izpadnih korakov z levo nogo naprej. Pazi, da koleno ne gre preko prstov na nogi.
3. 10 sklec. Sklece lahko izvajaš tudi na kolenih.
4. 10 plezalcev. Začetni položaj je v visoki stabilizaciji, noge pa izmenično premikaš naprej nazaj.



Če imaš še kaj moči, lahko vaje narediš še enkrat, tokrat s petimi ponovitvami. Na koncu naredi še nekaj razteznih vaj.

ANGLEŠČINA

V živalskem vrtu – At the zoo

Dragi učenec, draga učenka!



1. Ponovno poslušaj posnetek zgodbe Dear ZOO.
Ne pozabi natančno poslušati izgovorjavo besed za živali in jih tudi sam glasno ponovi.

DEAR ZOO: <https://www.youtube.com/watch?v=rudDGRQ9QGA>

Ponovi tudi izgovorjavo za sledeče živali:

Tiger: <https://www.youtube.com/watch?v=Xrs7M2qugWg>

Crocodile: <https://www.youtube.com/watch?v=32wA2qDwTIU>

Kangaroo: <https://www.youtube.com/watch?v=nVRKRTw0Wmc>

2. Igra PANTOMIMA.

Oglej si sličice živali v zvezku. Izberi si eno in jo oponašaj. Družinski člani morajo ugotoviti, katero žival oponašaš. Vloge nato zamenjajte. Ko ugotoviš žival, to povej v celem stavku >> It's a tiger/lion/elephant itd.

3. Odgovori na vprašanje »What's our favourite ZOO animal?« >> »My favourite ZOO animal is«

Vprašanje zastavi še staršem, starejšim bratom, sestram ...

Za vsak odgovor naredi črtico v ustrezno vrstico. (Tabelico lahko prerišeš in prepíšeš v zvezek).

Research

WHAT IS YOUR FAVOURITE ZOO ANIMAL?	MY FAVOURITE ZOO ANIMAL IS
A LION	
A CAMEL	
A GIRAFFE	
A SNAKE	
A MONKEY	
A TIGER	
A CROCODILE	
A KANGAROO	
AN ELEPHANT	
<u>OTHER</u>	

Lepo te pozdravljajo učiteljice Vika, Laura in Petra.

