

# PODALJŠANO BIVANJE Birčna vas (1., 2. in 3. razred)

Četrtek, 23. 4. 2020

## GRADNJA STOLPOV IZ KAMNOV



Poišči kraj, kjer so kamni različnih velikosti. Začni graditi stolp tako, da zлагаš en kamen na drugega.

**Si upaš?**

**Izziv 1:** Koliko kamnov si porabil za stolp, preden se je stolp podrl?



**Opomba:** Z zaobljenimi kamni je izziv še težji.

**Poskusi!** 😊

**Izziv 2:** Iz kamnov poskusi zgraditi kakšno zanimivo obliko.



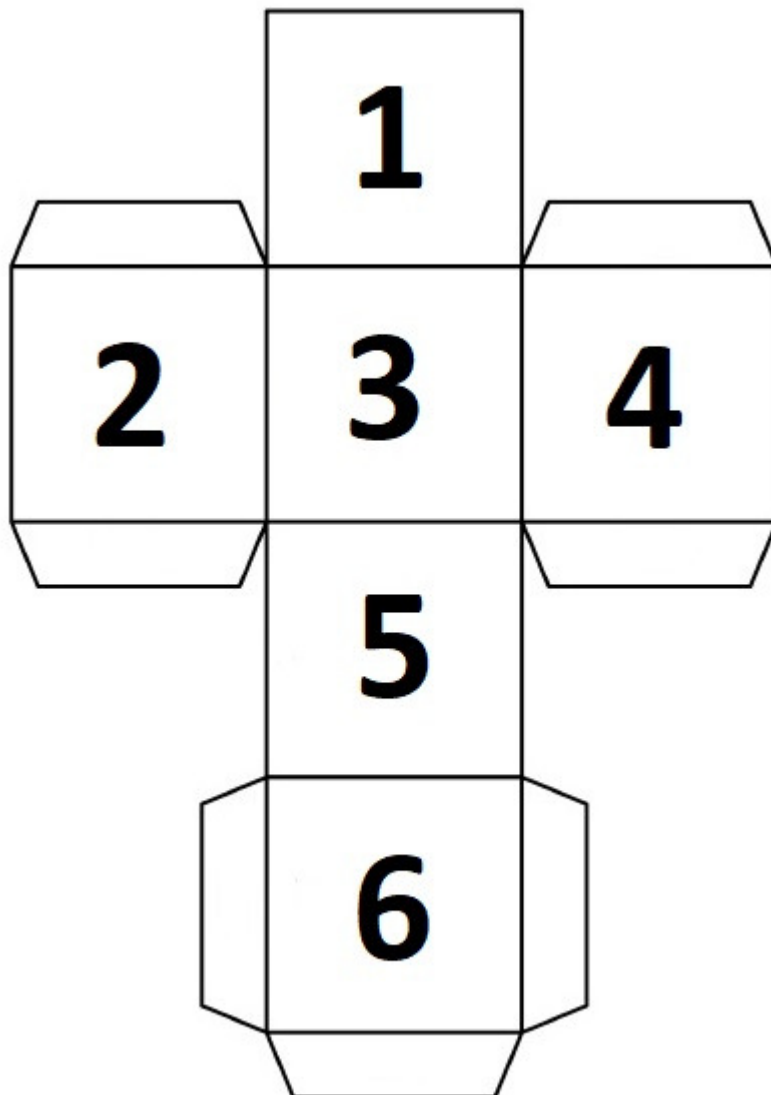
## TELOVADBA S KOCKAMI

Se še spomniš kock z živalmi, kjer si moral oponašati njihovo gibanje? V nadaljevanju ti zaupava še eno igro s kockami. Za to igro **potrebuješ 3 kocke** (navodilo za izdelavo v nadaljevanju). **Kocke z napisi in števili uporabljaš skupaj. Vse 3 hkrati vržeš in narediš, kar piše.**

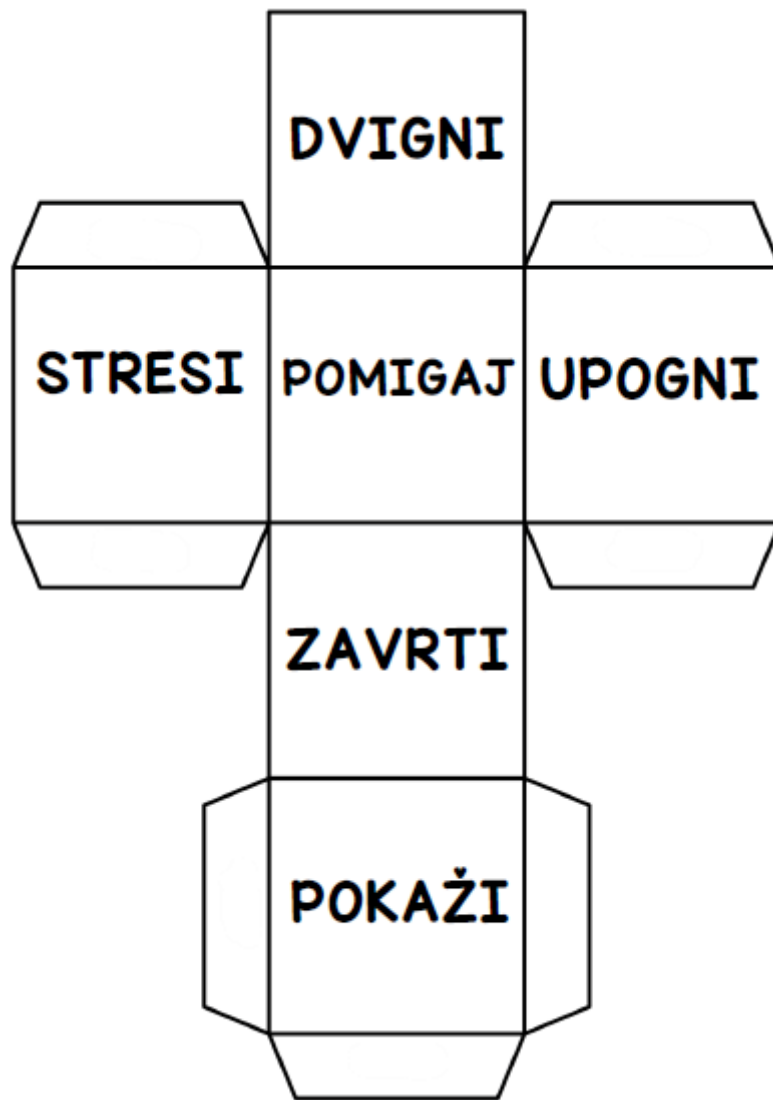
Na primer »**TRIKRAT ZAVRTI BOKE.**«

Naslednje slike prikazujejo mreže kock, ki jih potrebuješ za to igro.

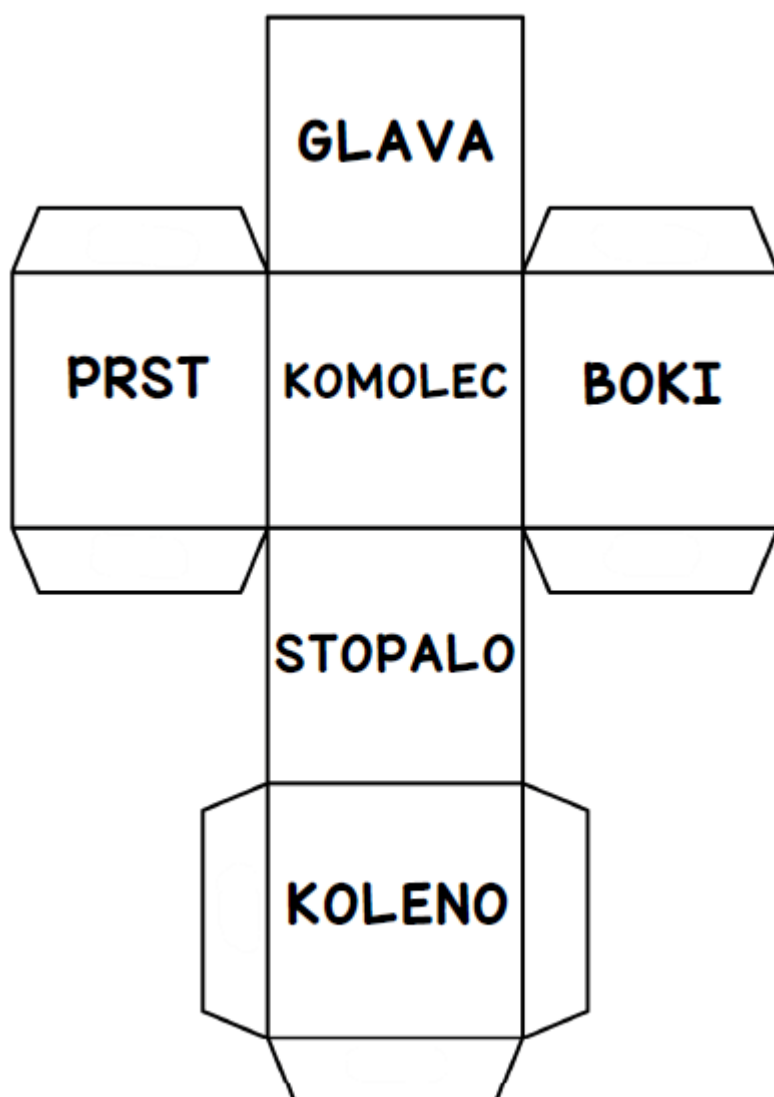
KOCKA 1 – število ponovitev



**KOCKA 2 – vrsta gibanja**



**KOCKA 3 – del telesa**



In še mreža kocke, ki jo lahko natisneš ali prerišeš in vanjo prepíšeš/narišeš besedilo iz zgornjih kock (Dele telesa lahko narišeš, namesto zapišeš. Prav tako lahko kocko s števili prirediš na tak način, da namesto števila 3 npr. narišeš 3 predmete, namesto števila 5 pa 5 predmetov.).

